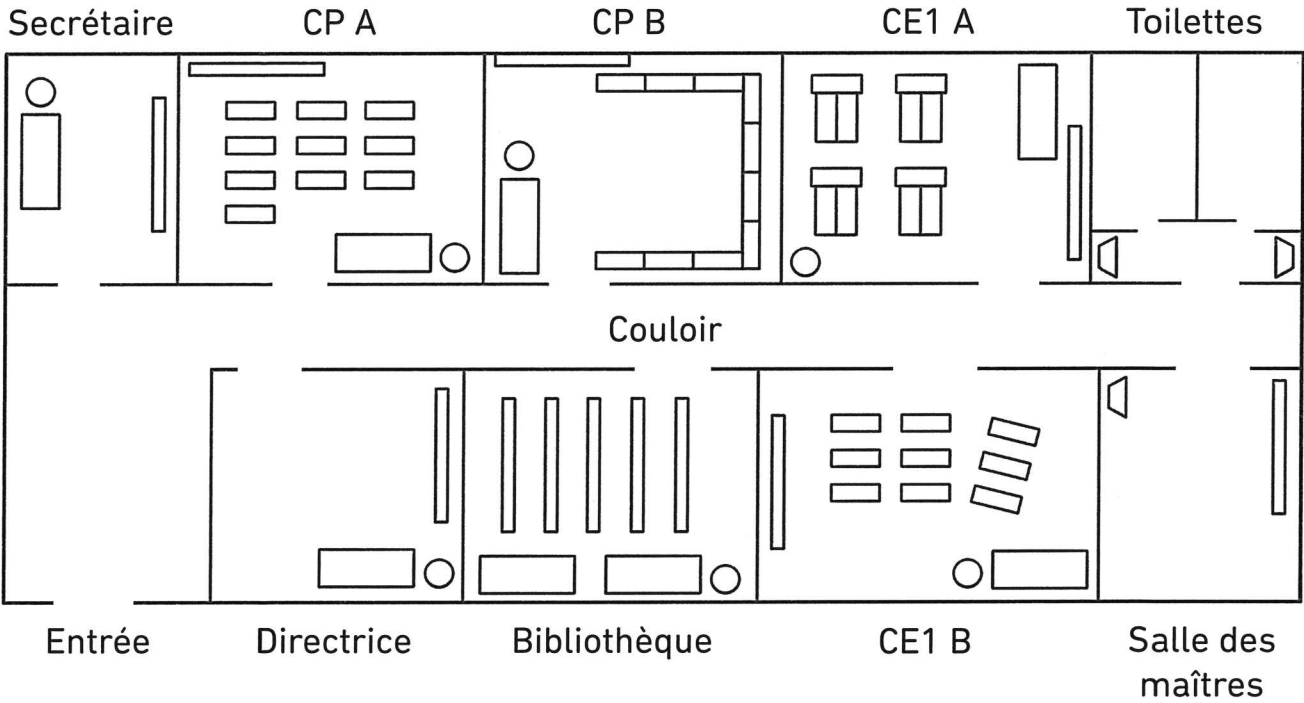


Séance

68

Lisons un plan et sa légende

1 Voici le plan du rez-de-chaussée d'une école et sa légende.




| Légende | | Nombre d'objets |
|---------|---------------------|-----------------|
| | corbeille | 7 |
| | lavabo | |
| | bureau d'élève | |
| | bureau d'enseignant | |
| | étagère | |


- a) Choisis 5 couleurs, colorie la légende, puis colorie le plan.
- b) Complète la deuxième colonne du tableau avec le nombre d'objets représentés sur le plan.

2 Observe cette chambre.
Découpe les 4 éléments en bas de page puis colle-les
dans le cadre de droite pour réaliser le plan.


Image de la chambre



Plan de la chambre



Légende





table



lit

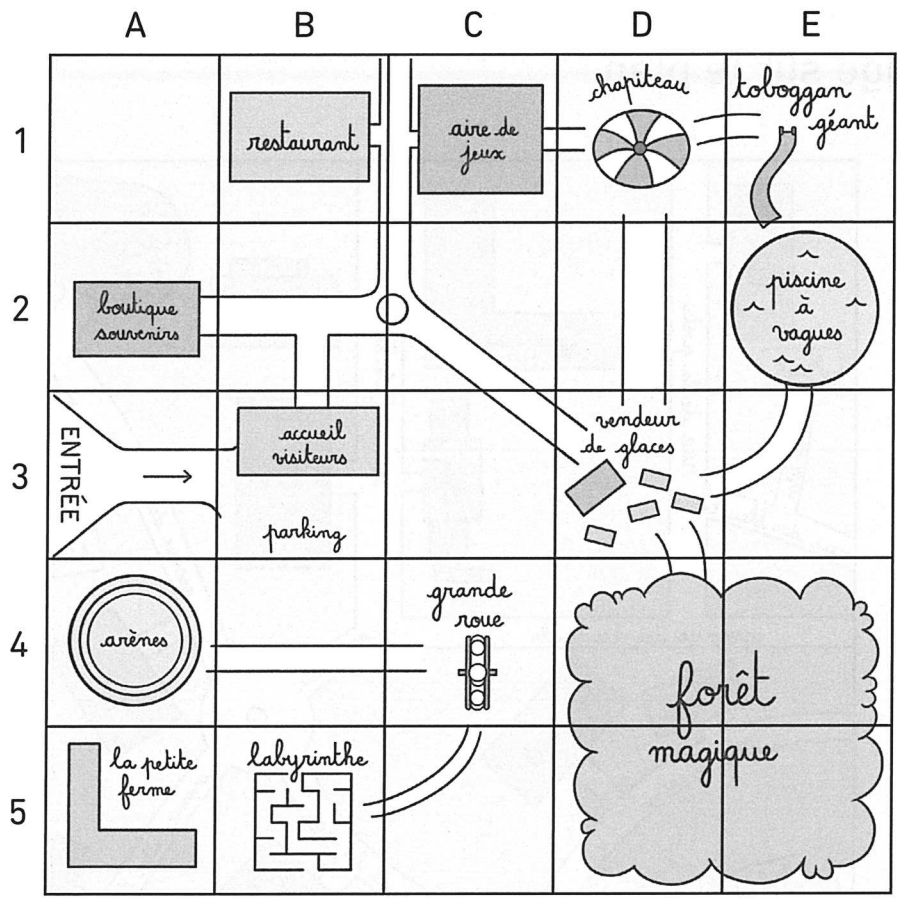


chaise



Séance **69** Repérons-nous sur un plan

1 Observe le plan du parc d'attraction.



a) Complète avec le nom de la case ou de l'attraction.

Le labyrinthe (,) (A, 4) _____

La grande roue (,) (D, 1) _____

Le toboggan géant (,) (A, 5) _____

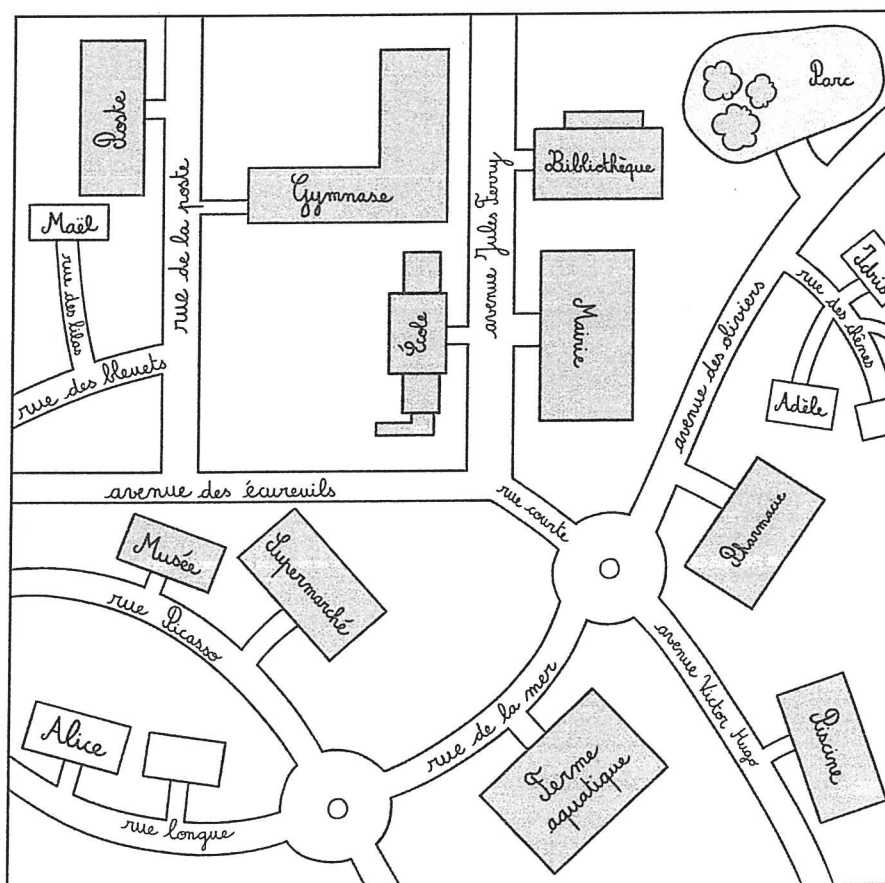
b) Écris le nom de la case où se trouvent Maël, Alice et Idris.

- Maël s'achète une glace à la vanille. (,)
- Alice nage dans la piscine à vagues. (,)
- Idris achète un souvenir. (,)

Séance 70 Déplaçons-nous sur un plan

1 Voici le plan du quartier d'Adèle, Alice, Maël et Idris.

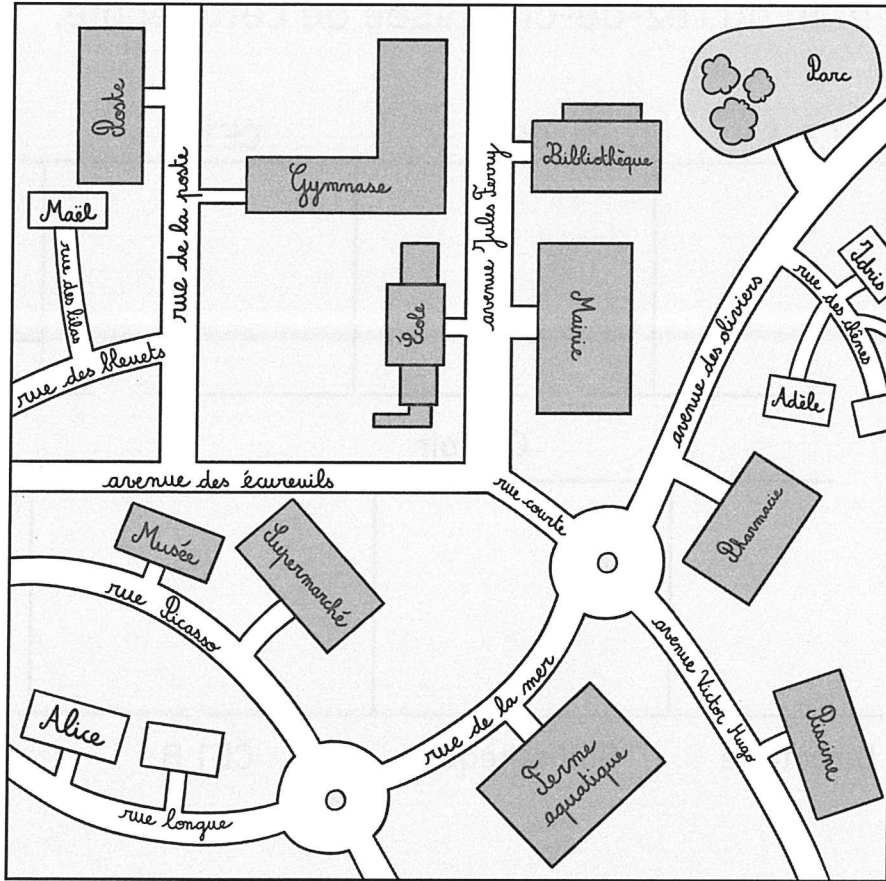
a) Lis attentivement ce que dit Adèle puis trace son trajet en rouge sur le plan.



Je sors de chez moi. Je tourne à gauche rue des chênes. Je tourne encore à gauche avenue des oliviers. Au premier rond-point, je vais tout droit rue de la mer. Au deuxième rond-point, je vais tout droit rue longue. Je me dirige enfin vers la deuxième maison sur ma droite.

b) Où Adèle va-t-elle ?

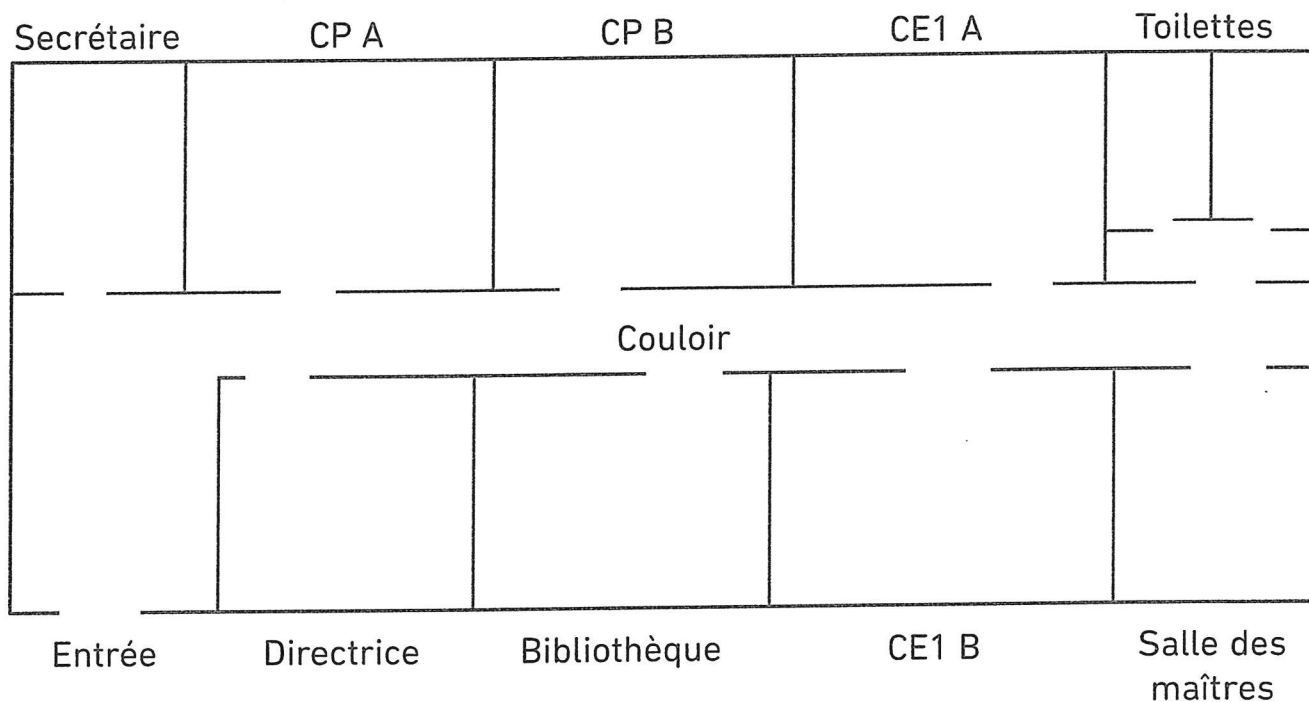
2



- a) Trace en vert le trajet pour aller de la Poste à la piscine.
b) Trace en bleu le trajet pour aller de la bibliothèque au musée, puis décris ce trajet en quelques phrases.

[illegible]

3 Observe le plan du rez-de-chaussée de cette école.



a) Un élève est en classe de CE1 B.
Trace son trajet pour aller voir le secrétaire de l'école dans son bureau.

b) Numérote de 1 à 6 les étapes de son trajet.

- ☐ Il passe devant la bibliothèque.
- ☒ ① Il sort de sa classe.
- ☐ Il tourne à gauche.
- ☐ Il passe devant le bureau de la directrice.
- ☐ Il entre dans le bureau du secrétaire.
- ☐ Il tourne à droite.

c) Coche la bonne réponse.

| | Vrai | Faux | Je ne peux pas le savoir. |
|--|------|------|---------------------------|
| Le plan du rez-de-chaussée de l'école comporte 3 salles de classe. | | | |
| La bibliothèque se trouve entre la salle des maîtres et la classe des CE1 B. | | | |
| Le bureau de la directrice est à droite de l'entrée. | | | |
| Il y a 10 chaises dans la salle des maîtres. | | | |
| Il y a quatre salles de classe au 1 ^{er} étage de l'école. | | | |
| Les toilettes se situent au fond du couloir, à gauche. | | | |
| La bibliothèque se trouve juste en face de la classe des CP B. | | | |
| La salle de cantine est au 2 ^e étage de l'école. | | | |
| La classe de CE1 B se trouve juste à côté du bureau du secrétaire. | | | |

Séance 71 Identifions les points de vue

1 Relie chaque objet à sa vue de dessus et à sa vue dessous.

Vue de dessus


Objet

Vue de dessous



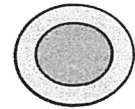
.

.



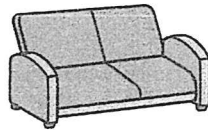
.

.



.

.



.

.



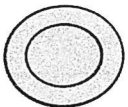
.

.



.

.




.

.



.

.



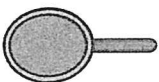
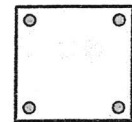
.

.



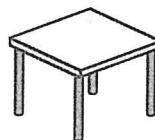
.

.



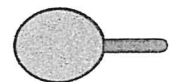
.

.






.


.



2 Dessine un animal vu de face, vu de dessus et vu de profil droit.

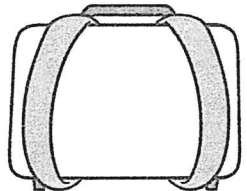


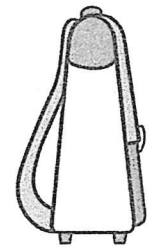
3 Adèle, Alice, Maël et Idris dessinent chacun leur point de vue du cartable posé sur la table.

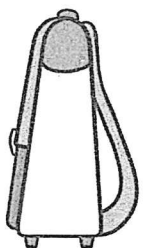


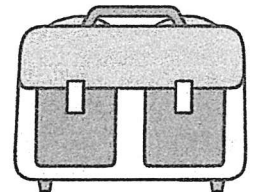
a) Identifie le point de vue de chaque enfant et écris son nom sous son dessin. Barre les deux intrus.

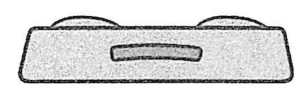












b) Complète en choisissant parmi les expressions dessus, dessous, face, derrière, droite, gauche.
Les dessins intrus sont les vues

de _____ et de _____.