

**3** a) Complète les égalités.

$18 - 9 = \square \longleftrightarrow U$

$9 + 9 = \square \longleftrightarrow A$

$11 - 8 = \square \longleftrightarrow I$

$0 + 0 = \square \longleftrightarrow T$

$8 + 8 = \square \longleftrightarrow E$

$13 - 7 = \square \longleftrightarrow O$

$8 + 9 = \square \longleftrightarrow F$

$6 + 6 = \square \longleftrightarrow L$

$9 - 1 = \square \longleftrightarrow R$

b) Complète avec les lettres qui correspondent aux nombres que tu as trouvés.

12    18                    0    6    9    8

16    3    17    17    16    12

c) Quel est le monument le plus célèbre de Paris ?

---

4 a) Complète les égalités.

$7 + 3 = \square$   $\longleftrightarrow$  C

$9 - \square = 4$   $\longleftrightarrow$  A

$\square + 4 = 15$   $\longleftrightarrow$  F

$13 - 5 = \square$   $\longleftrightarrow$  N

$\square + 9 = 16$   $\longleftrightarrow$  L

$14 - 8 = \square$   $\longleftrightarrow$  E

$18 - \square = 9$   $\longleftrightarrow$  R

b) Complète avec les lettres qui correspondent aux nombres que tu as trouvés.

|                      |                      |                      |                      |                      |                      |                      |   |
|----------------------|----------------------|----------------------|----------------------|----------------------|----------------------|----------------------|---|
| <input type="text"/> | <input type="text"/> | <input type="text"/> | <input type="text"/> | <input type="text"/> | <input type="text"/> | <input type="text"/> |   |
| 7                    | 5                    | 11                   | 9                    | 5                    | 8                    | 10                   | 6 |




8. L'addition et la soustraction jusqu'à 20


Activité 8

Séance 69 - Résolvons des problèmes (2)

- 1 Lola a 6 pommes vertes et 8 pommes rouges.  
Combien de pommes a-t-elle en tout ?



pommes vertes

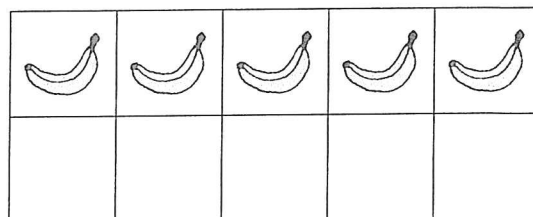
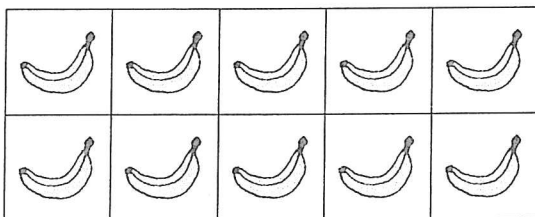


pommes rouges

$$\square \bigcirc \square = \square$$

Lola a  pommes en tout.

- 2 Un gardien de zoo a 15 bananes.  
Il donne 6 bananes aux singes.  
Combien de bananes lui reste-t-il ?



$$\square \bigcirc \square = \square$$

Il lui reste  bananes.

**3** a) Colorie 6 chapeaux en rouge et les autres en jaune.



b) Complète l'histoire d'addition puis l'égalité.

Il y a  chapeaux rouges.

Il y a  chapeaux jaunes.

Il y a  chapeaux en tout.

$$\boxed{\phantom{0}} + \boxed{\phantom{0}} = \boxed{\phantom{0}} \text{ ou } \boxed{\phantom{0}} + \boxed{\phantom{0}} = \boxed{\phantom{0}}$$

c) Complète l'histoire de soustraction puis l'égalité.

Il y a  chapeaux.

sont rouges.

sont jaunes.

$$\boxed{\phantom{0}} - \boxed{\phantom{0}} = \boxed{\phantom{0}} \text{ ou } \boxed{\phantom{0}} - \boxed{\phantom{0}} = \boxed{\phantom{0}}$$