
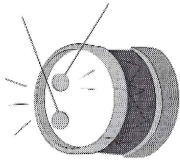


am am


em em



Je pose le a sur mon nez et je dis « an ». C'est le [an] de tambour et de tempête.



un tambour



la tempête

am

un tambour
une rampe
une lampe
des jambes
du jambon

am

une chambre
un champion
un vampire
une ampoule
un tampon

em

le temps
le printemps
décembre
ensemble
trembler

tam	pam	ram	vam	cam	bam
vem	tem	mem	sem	rem	lem
cram	tram	jam	trem	cham	fram
lam	pren	chan	man	pran	cran

1. En classe, les élèves sont de **plus** en **plus** attentifs.

2. **Je vois** l'arbre trembler dans la tempête.

3. En décembre, nous fêtons Noël tous ensemble. Je **m'**en réjouis d'avance !

me

plus

je vois

Rouge !

Épisode 1, pp. 4 à 9

Je découvre le texte

1.  Lis et  entoure selon le code.

 qui ?  quand ?
 quoi ?  où ?

Il était une fois, tout au fond d'un bois,
une bien jolie petite mamie.

Elle avait les joues rouges, un très beau rosier rouge,
une ravissante robe rouge et même des rideaux rouges.

C'était sa couleur adorée.

Cette petite mamie passait ses journées à tricoter, tricoter,
surtout pour sa petite-fille.


2.  Entoure les bonnes réponses.

Qui ?	Où ?
la petite-fille la maman la petite mamie la grand-mère	au fond d'une grotte chez la mamie chez la petite-fille tout au fond d'un bois
Quand ?	Quoi ?
une fois un jour ses journées ses années	Elle trie. Elle tricote. Elle triche. Elle coud.

Séance 73 Les nombres de 20 à 40


1  Observe l'exemple puis complète.


Exemple





22


vingt-deux







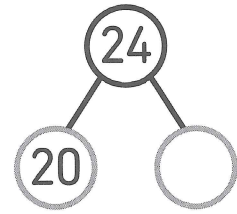
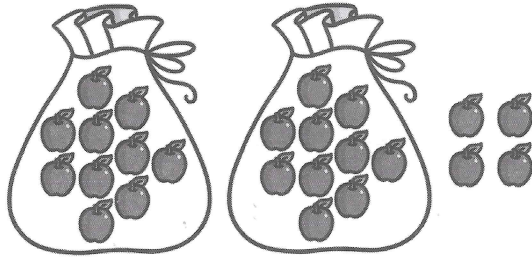




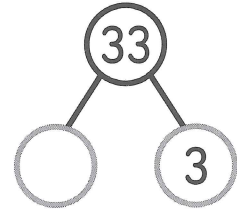
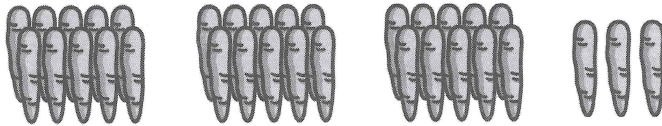
2  Quel nombre vaut 1 de plus que 39 ?

3 ✎ Complète les familles de nombres.

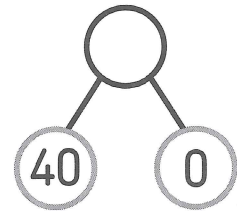

a)




b)



c)



4 ✎ Relie.



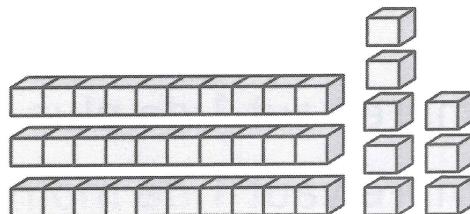
28

trente-sept

8 et 30

20 et 8

37



vingt-sept