

Mesure : L'heure


1 heure = 60 minutes

1 Je comprends :

1 h = 60 min



La **grande aiguille** montre les **minutes**. Elle met 1 heure pour faire un tour complet.



La **petite aiguille** montre les **heures**. Elle avance lentement d'un nombre au suivant en 1 heure.

Il est 4 heures.



4 h 15

4 heures **et quart**



La **petite aiguille** est entre le 4 et le 5.

4 h 30

4 heures **et demie**

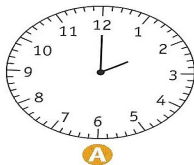


La **petite aiguille** est plus près du 5 que du 4.

4 h 45

5 heures **moins le quart**

2 Ecris l'heure sous chaque pendule :



A

..... h




B

..... h



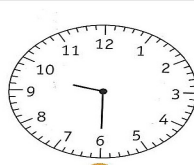
C

..... h




D

..... h



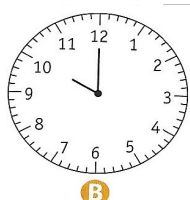
E

..... h



A

..... h




B

..... h




C

..... h



D

..... h

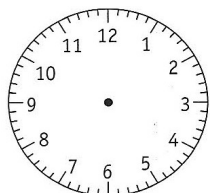


E

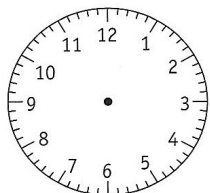
..... h

3 Dessine les aiguilles pour indiquer l'heure demandée :

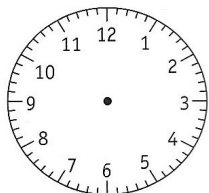
(faire la petite aiguille en rouge et la grande en bleu)



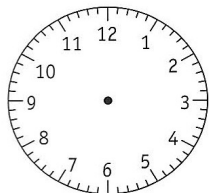
a 7 h



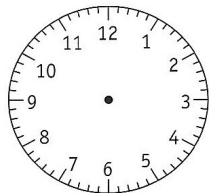
b 11 h



c 10 h



d 9 h



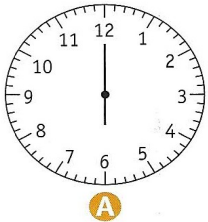
e 3 h

Prénom : _____

Date: _____

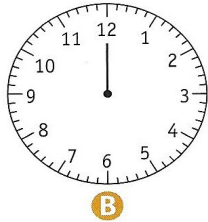
Mesure : L'heure

1 **Ecris** l'heure sous chaque pendule :



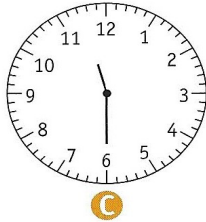
A

..... h




B

..... h



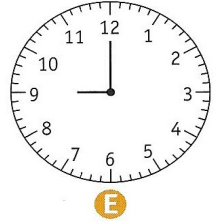
C

..... h



D

..... h

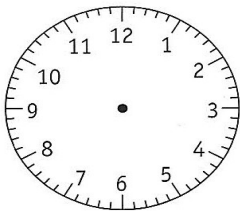


E

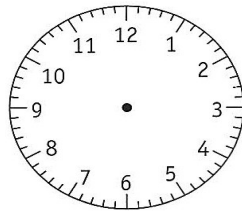
..... h

2 **Dessine** les aiguilles pour indiquer l'heure demandée :

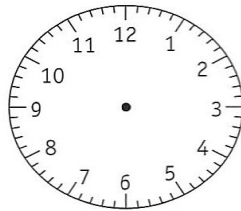
(faire la petite aiguille en rouge et la grande en bleu)



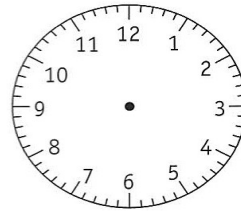
a 3 h 30



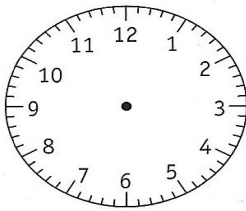
b 2 h 30



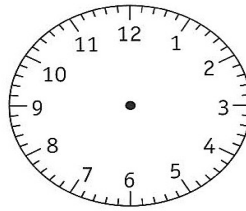
c 5 h 30



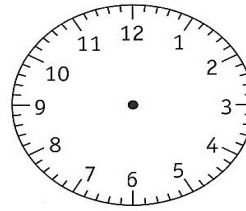
d 4 h 30



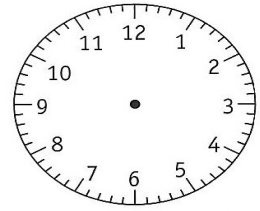
a 0 h 30



b 1 h 30




c 6 h 30




d 11 h 30


3 **Ecris** vrai ou faux :




a 11 h et demie




b 10 h



c 8 h 30



d Midi



e Minuit

.....

.....

.....

.....

.....

Prénom : _____

Date: _____

Mesure : L'heure

Je comprends

1 jour = 24 heures

- Toutes les 12 heures, les aiguilles d'une montre reviennent à la même position.
- Pour montrer la différence entre le matin et l'après-midi, on se sert d'une montre électronique.

Est-il 7 h du matin ou 7 h du soir ?



Il est 7 heures du matin.



Avant 12 h, c'est le **matin**.

07:00

7 h 00

À 12 h, il est **midi**.

12:00

+ 12

Après 12 h, c'est l'**après-midi** ou le **soir**.

19:00

19 h 00

Il est 19 heures ou 7 heures du soir.



1 **Relie** chaque cadran à aiguilles au bon cadran digital :



20:00

14:00

22:00

16:00

2 **Ecris** les heures du matin et du soir :



matin

..... h

soir

..... h



matin

..... h

soir

..... h



matin

..... h

soir

..... h

Prénom : _____

Date: _____

Mesure : L'heure


1 **Ecris** l'heure affichée sur chaque horloge :



Heure du matin

Heure du soir


2 **Colorie** les heures du soir.



3 **Ecris** les heures du soir.

matin	9 h	6 h 30	2 h	11 h
soir

+ 12



4 **Ecris** l'heure indiquée par l'horloge l'après-midi, entre 12 h et 19 h.

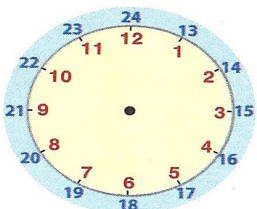


Handwriting practice lines for the first clock.

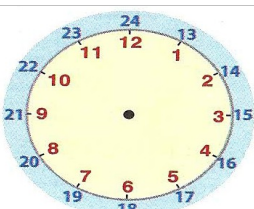
Handwriting practice lines for the second clock.

Handwriting practice lines for the third clock.

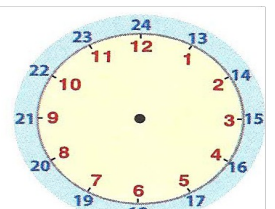
5 **Dessine** les aiguilles :
(faire la petite aiguille en rouge et la grande en bleu)



13 h



16 h



20 h 30