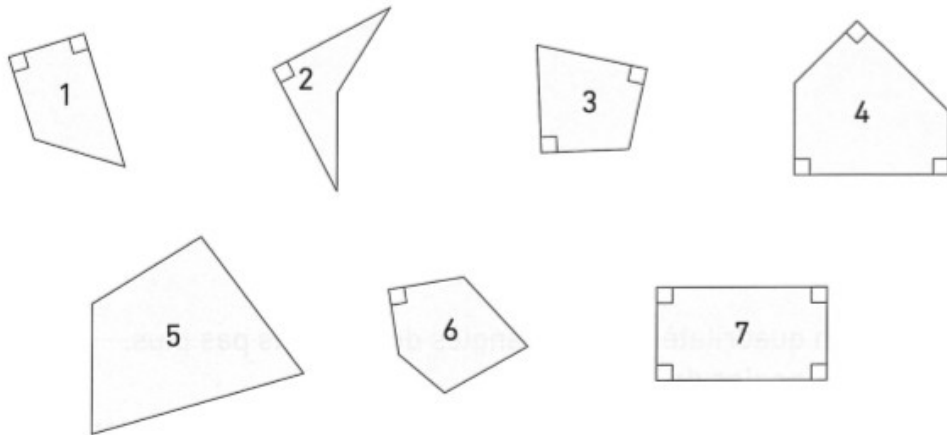


Séance 65 D'autres quadrilatères

1 Observe ces figures et trouve celles qui correspondent aux descriptions ci-dessous.



a) Je suis un quadrilatère. J'ai un seul angle droit.

Je suis _____

b) Je suis un quadrilatère. J'ai 2 angles droits et pas de côtés parallèles.

Je suis _____

c) Je suis un quadrilatère. J'ai 2 côtés parallèles, mais pas plus.

Je suis _____

d) Je ne suis pas un quadrilatère. J'ai plusieurs angles droits.

Je suis _____

e) Je suis un quadrilatère. Je n'ai pas de côtés parallèles et pas d'angle droit.


Je suis _____

- 2 Dessine un quadrilatère qui a 3 côtés égaux, mais pas plus.
Indique avec des petits traits rouges les côtés de même longueur.
- a) À main levée.
 - b) Avec ta règle graduée.

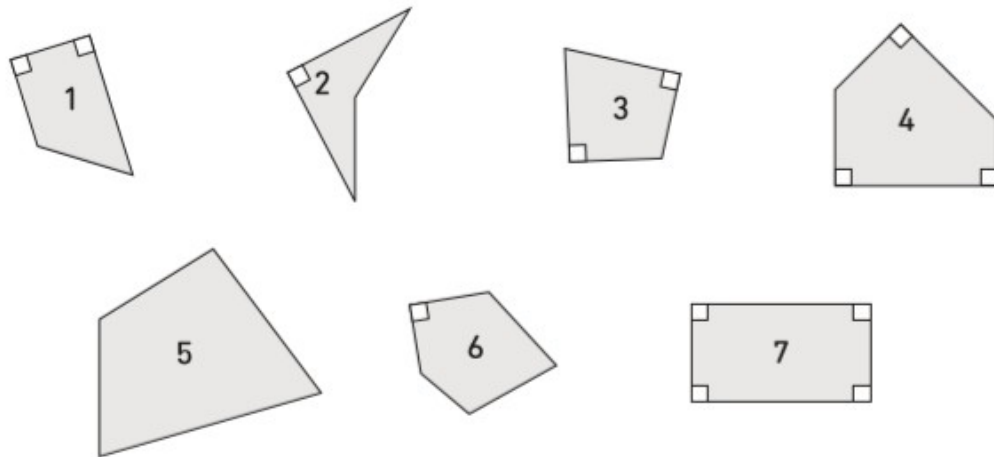
- 3 Dessine un quadrilatère qui a 2 angles droits, mais pas plus.
Marque les angles droits.
- a) À main levée.
 - b) Avec ta règle et ton équerre.



- 4 Dessine un quadrilatère qui a 2 côtés parallèles, mais pas d'angle droit.
- a) À main levée.
 - b) Avec ta règle.



- 1 Observe ces figures et trouve celles qui correspondent aux descriptions ci-dessous.



- a) Je suis un quadrilatère. J'ai un seul angle droit.

Je suis 2

- b) Je suis un quadrilatère. J'ai 2 angles droits et pas de côtés parallèles.

Je suis 3

- c) Je suis un quadrilatère. J'ai 2 côtés parallèles, mais pas plus.

Je suis 1

- d) Je ne suis pas un quadrilatère. J'ai plusieurs angles droits.

Je suis 4

- e) Je suis un quadrilatère. Je n'ai pas de côtés parallèles et pas d'angle droit.

Je suis 5

