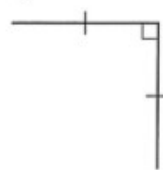

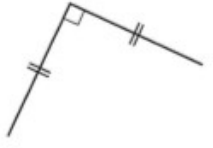



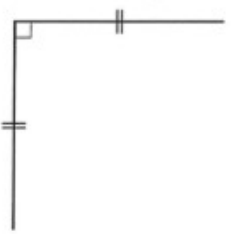

# Séance 66 Construire des carrés et des rectangles

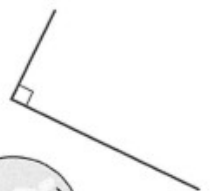

1 À main levée, complète ces tracés pour obtenir des carrés. Marque les angles droits et les côtés de même longueur.

a)  b) 

c)  d) 

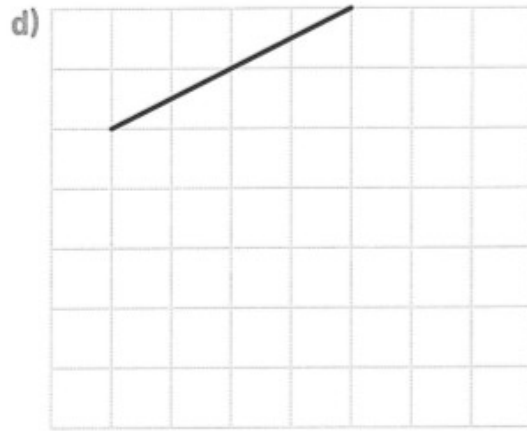
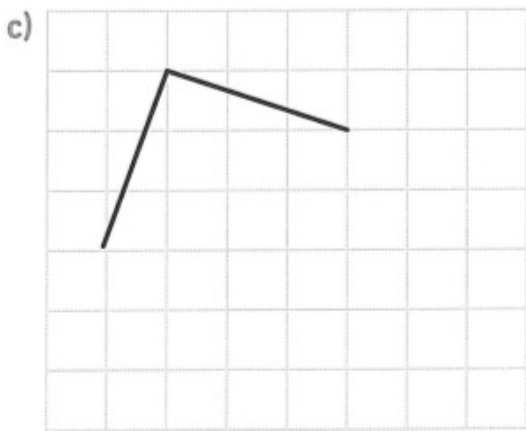
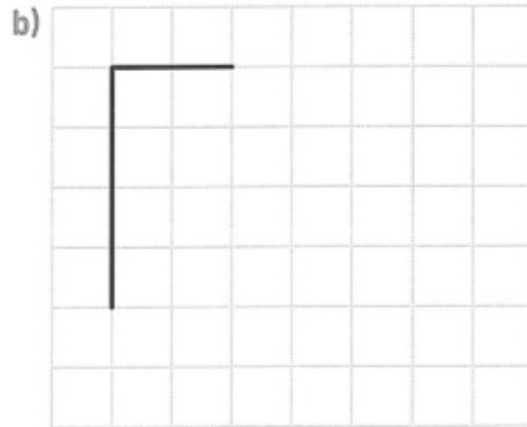
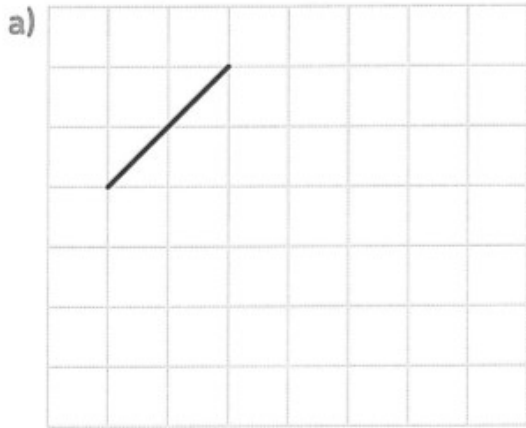
2 Avec ta règle graduée et ton équerre, complète ces tracés pour obtenir des carrés. Marque les angles droits et les côtés de même longueur.

a)  b) 

c)  d) 



3 Avec ta règle, complète ces tracés pour obtenir des carrés.

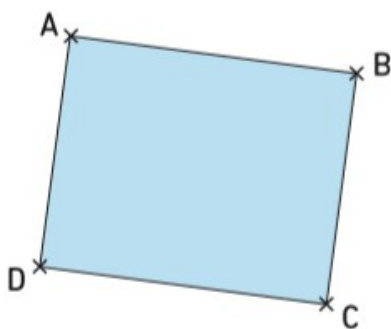


4 Avec ta règle, ton équerre et ton compas, construis un rectangle de 6 cm de longueur et de 3 cm de largeur.

- 4 Construis un rectangle ABCD de 7 cm de longueur et de 3 cm de largeur avec ton équerre, ta règle graduée et ton compas.



- 5 Avec les instruments de ton choix, reproduis le rectangle ci-dessous en respectant ses dimensions.



Tu peux changer son orientation.

