

exercices du livre pour la partie 2 (exercices guidés )

**1** Complète à main levée les figures suivantes pour obtenir des carrés.

a)



b)



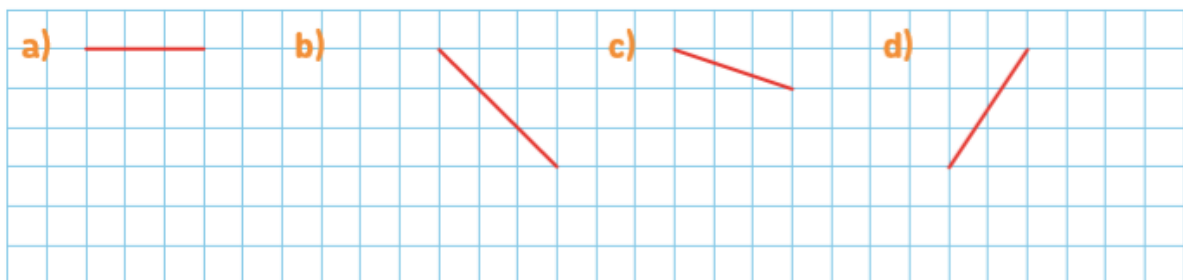
c)



d)

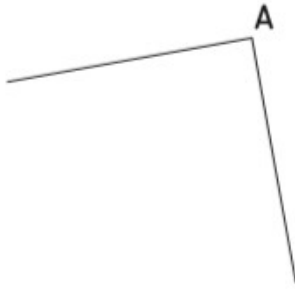


**2** Complète avec ta règle les figures suivantes pour obtenir des carrés en te servant du quadrillage.

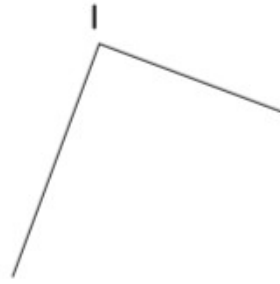


- 3 Complète avec ton équerre et ton compas les figures suivantes pour obtenir les carrés ABCD, IJKL, MNOP et RSTU. Explique à ton voisin ce que tu as fait.

a)



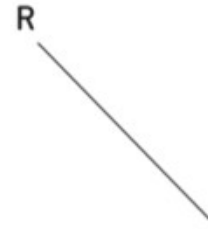
b)



c)

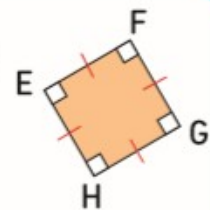


d)



- 4 Construis un carré EFGH de 5 cm de côté avec ton équerre, ta règle graduée et ton compas.

Les lettres E, F, G et H se suivent quand on suit les côtés du carré.



E<sup>x</sup>



