

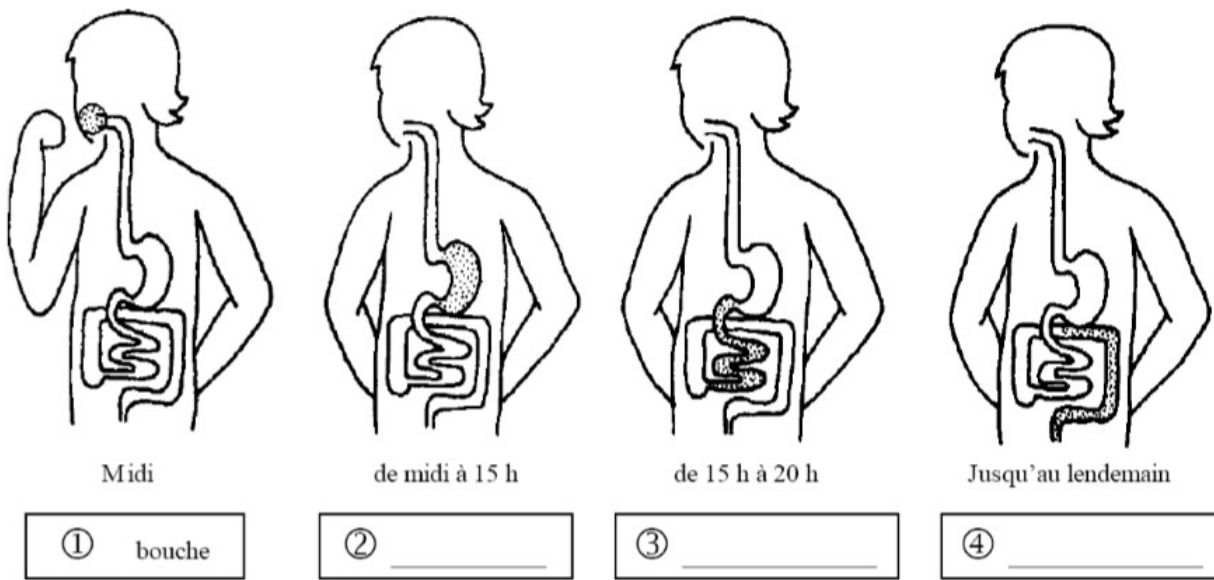
Prénom :

Date :

Séance 7

Que se passe-t-il après un repas ?

1. Sur chaque dessin, colorie en rouge la partie du tube digestif où se trouve ce qui provient du repas.
2. Complète les étiquettes.



Relie les points. Puis numérote les pastilles dans le bon ordre.

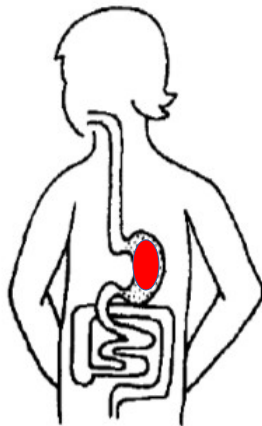
- Dans la bouche
 - Dans l'intestin grêle
 - Dans le gros intestin
 - Dans l'estomac
- la partie utile au corps passe dans le sang.
 - les aliments sont écrasés et mouillés de salive.
 - les aliments sont réduits en bouillie.
 - la partie inutile s'accumule avant d'être rejetée.

CORRECTION



Midi

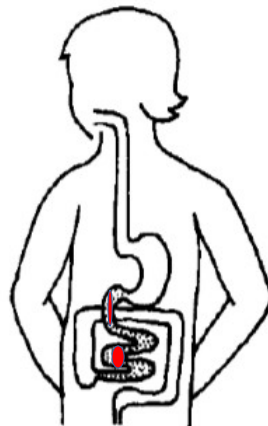
① bouche



de midi à 15 h

② _____

estomac



de 15 h à 20 h

③ _____

gros intestin




Jusqu'au lendemain

④ _____

intestin grêle

Relie les points. Puis numérote les pastilles dans le bon ordre.

- ① Dans la bouche
- ④ Dans l'intestin grêle
- ③ Dans le gros intestin
- ② Dans l'estomac



- la partie utile au corps passe dans le sang.
- les aliments sont écrasés et mouillés de salive.
- les aliments sont réduits en bouillie.
- la partie inutile s'accumule avant d'être rejetée.